

1.运行完下面的代码以后， 最终会往哪条路走？（        ）



- A ①      B ②      C ③      D ④

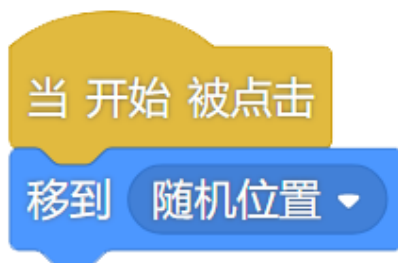
2.冬天到了，小河结了一层厚厚的冰，已知河岸线的 x 坐标为-210,一定能够帮助



顺利过河的代码是（ ）



A



B



C




D









3. 有 3 个造型，他执行完下面的代码以后，会切换到哪一个造型（  
）




1

禾木正面







2

禾木侧面



3

禾木背面



当 开始 被点击


重复执行 10 次

下一个造型



D 禾木会消失

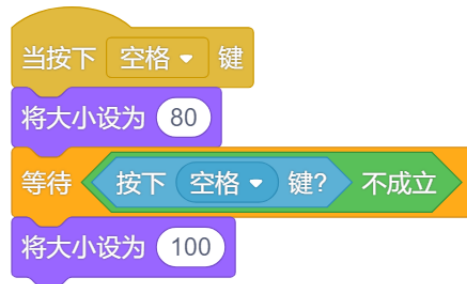
4.鸟儿能够吃掉农田的害虫，帮助农民伯伯增加收成，是人类的好朋友。运行以下程序，舞台区会变成哪一张图的样子（ ）（小鸟现在面向 90 方向）



5.下列哪段代码能实现按下空格一直变大，松开空格一直变小的功能？

( )

A、



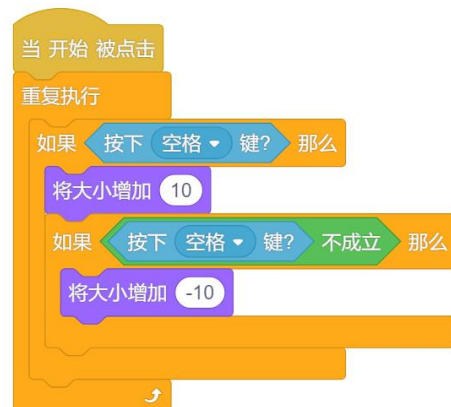
B、




C、



D、



6.为了守护家园的安全，狼堡设置了暗语密码，只有答对了才能进入。如果分别输入了“good”、“321”，根据以下代码，大炮的回应是（ ）



- A “错误!!!”、“欢迎!”
- B 说两次“欢迎!”
- C 说两次“错误!!!”
- D “欢迎!”、“错误!!!”

7.角色的代码如下，点击开始按钮后，角色的说话顺序为？（ ）



A. 🌙😊🌙😊🌟

B. 🌙😊🌙🌟

C. 🌙🌙😊🌟

D. 😊🌙😊🌙🌟

8.一年一度的国庆节到了，天安门广场上烟花漫天。以下四个空白处应分别填入什么数字，可以保证烟花只出现在舞台上半部分（ ）



A、 -240 240 -180 0

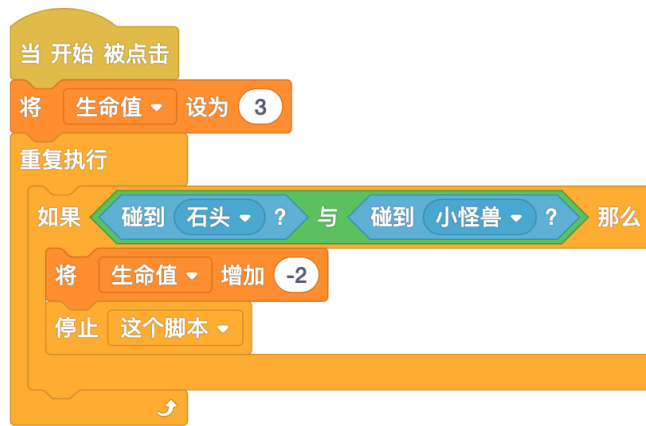
B、 0 240 0 180

C、 -240 240 0 180

D、 0 240 -180 180



9 小桃代码区如右图所示，点击开始按钮，小桃先是碰到了石头，然后碰到了小怪兽，这个时候石头已经不见了。请问最后“生命值”会变为多少？（ ）



- A 1      B 2      C 3      D -1

10. 桃子代表学校参加市级声乐大赛，她的五轮成绩被记录在列表中。根据以下代码，最后 b 的值是（ ）



```
当 开始 被点击
将 a 设置为 1
将 b 设置为 0
重复执行 得分 的项目数 次
  将 b 增加 得分 的第 a 项
  将 a 增加 1
将 b 设置为 b / 得分 的项目数
```

- A、8      B、7      C、10      D、9